


Series GEFH1/5

SET ~ 3

رول نمبر
Roll No.



Q.P. کوڈ
Q.P. Code 252/5/3

امیدوار Q.P. کوڈ کو جوابی کاپی کے سرورق پر ضرور لکھیں۔
Candidates must write the Q.P. Code on the title page of the answer-book. ^

سیاسیات

POLITICAL SCIENCE

(Urdu Version)

مقررہ وقت : 3 گھنٹے

Time allowed : 3 hours

کل نمبر : 80

Maximum Marks : 80

نوٹ/NOTE :

- (i) آپ جانچ لیجیے کہ اس سوالنامے میں چھپے صفحات کی تعداد 12 ہے۔
Please check that this question paper contains 12 printed pages
- (ii) پرچہ کے داہنی طرف چھپا Q.P. کوڈ نمبر طالب علم کو اپنی جوابی کاپی کے نائٹل صفحہ پر لکھنا ہے۔
Q.P. Code given on the right hand side of the question paper should be written on the title page of the answer-book by the candidate.
- (iii) آپ دیکھ لیجیے کہ سوالنامے میں چھپے سوالات کی تعداد 30 ہے۔
Please check that this question paper contains 30 questions.
- (iv) کسی بھی سوال کا جواب لکھنے سے پہلے سوال کا نمبر ضرور جوابی کاپی میں لکھیں۔
Please write down the Serial Number of the question in the answer-book before attempting it.
- (v) سوالنامہ پڑھنے کے لیے 15 منٹ کا وقت دیا گیا ہے۔ سوالنامہ صبح 10.15 بجے تقسیم کیا جائے گا۔ 10.15 سے 10.30 بجے تک طلباء صرف سوالنامہ پڑھیں گے اور اس وقفے کے دوران وہ جوابی کاپی پر کچھ نہیں لکھیں گے۔
15 minute time has been allotted to read this question paper. The question paper will be distributed at 10.15 a.m. From 10.15 a.m. to 10.30 a.m., the candidates will read the question paper only and will not write any answer on the answer-book during this period.



252/5/3

249C

Page 1 of 12

P.T.O.



عام ہدایات:

درج ذیل ہدایات کو غور سے پڑھیے اور ان پر عمل کیجیے:

- (i) اس سوال نامے میں 30 سوالات ہیں۔ تمام سوال کرنے لازمی ہیں۔
- (ii) سوال نامے میں پانچ حصے ہیں۔ حصہ - A، B، C، D اور E۔
- (iii) حصہ - A میں سوال نمبر 1 تا 12 کثیر اختیاراتی سوالات (MCQ) ہیں۔
- (iv) حصہ - B میں سوال نمبر 13 تا 18 چھوٹے جواب (SA) کے سوال ہیں۔ ہر ایک سوال 2 نمبر کا ہے۔ ان میں ہر ایک سوال کا جواب 50 الفاظ سے زیادہ نہیں ہونا چاہیے۔
- (v) حصہ - C میں سوال نمبر 19 اور 23 لمبے جواب (LA) کے سوال ہیں۔ ہر ایک سوال 4 نمبر کا ہے۔ ہر سوال کا جواب 100 الفاظ سے زیادہ نہیں ہونا چاہیے۔
- (vi) حصہ - D میں سوال نمبر 24 تا 26 پیرا گراف، کارٹون اور نقشے پر مبنی ہیں۔
- (vii) حصہ - E میں سوال نمبر 27 تا 30 لمبے جواب (LA) کے سوال ہیں۔ ہر ایک سوال 6 نمبر کا ہے۔ ہر ایک سوال کا جواب 170 الفاظ سے زیادہ نہیں ہونا چاہیے۔
- (viii) سوال نامے میں مجموعی طور پر کوئی Choice نہیں ہے حالانکہ کچھ سوالوں میں اندرونی انتخاب کرنے کا اختیار (Internal Choice) دیا گیا ہے۔ ان سوالوں میں صرف ایک ہی متبادل کا جواب لکھنا ہے۔
- (ix) اس کے علاوہ ہر ایک حصے اور ہر ایک سوال کے ساتھ جہاں ضروری ہے ہدایت دی گئی ہے۔

حصہ - A

1. درج ذیل خالی جگہ کو ذیل میں دی گئی مناسب اصطلاح سے بھریئے:

_____ کا مطلب ایسی ترقی سے ہے جو موجودہ (حال) نسل کی ضرورتوں کو آنے والی نسل کی ضرورتوں کے ساتھ

سمجھوتہ کیے بغیر پورا کرتی ہے۔

- (a) عالم گیر مشترکات
- (b) تباہی کے بغیر ترقی
- (c) پائیدار فروغ
- (d) ترقی یافتہ ملکوں کی سیاست



1

2. درج ذیل کو تاریخی ترتیب میں لکھیے:

- (i) لال بہادر شاستری وزیر اعظم بنے
(ii) تاشقند سمجھوتہ
(iii) چوتھا عام چناؤ
(iv) وی۔وی۔گری کا صدارتی الیکشن

صحیح جواب کا انتخاب کیجیے:

- (a) (i), (ii), (iii), (iv)
(b) (ii), (iii), (iv), (i)
(c) (iii), (iv), (i), (ii)
(d) (ii), (iv), (i), (iii)

1

3. ہندوستان اور نیپال کے تعلقات کے بارے میں درج ذیل بیانات میں سے کون سا بیان صحیح نہیں ہے؟

- (a) ہندوستان اور نیپال کے درمیان بغیر ویزا کے ایک دوسرے ملک میں سفر اور کام سے متعلق ایک خصوصی معاہدہ ہے۔
(b) ہندوستان، نیپال سے آنے والے دریا کا پانی بانٹتا ہے۔
(c) دونوں ممالک میں جمہوری حکومت ہے۔
(d) نیپال ہمیشہ ہندوستان کی پالیسیوں کی اتباع کرتا ہے۔

1

4. درج ذیل میں سے کون سا اقوام متحدہ کا عنصر (Organ) نہیں ہے؟

- (a) عام اسمبلی
(b) سلامتی کونسل
(c) انٹرنیشنل کورٹ آف جسٹس
(d) عالمی صحت تنظیم (WHO)

1

5. ملٹی نیشنل کمپنیوں کے ذریعے ترقی پذیر ممالک میں سرمایہ کاری کرنے کے اہم سبب کو پہچانیے۔

- (a) محروم لوگوں (under privileged people) کی فلاح کرنا۔
(b) اپنا سرمایہ بڑھانا اور زیادہ منافع کمانا۔
(c) دوسرے ملکوں کو فائدہ پہنچانا۔
(d) ترقی پذیر ملکوں کی حکومت کو مالیاتی مدد فراہم کرنا۔



1 .6 جموں اور کشمیر سے متعلق آرٹیکل 370 کو کب ختم کیا گیا؟

(a) 26 جنوری 2019 (b) 15 اگست 2019

(c) 9 اگست 2019 (d) 19 اگست 2019

1 .7 درج ذیل میں سے کس ترقی کے ماڈل کے حامی ہندوستان میں سب سے کم تھے؟

(a) ترقی کا مخلوط ماڈل (b) بمبئی پلان

(c) امریکہ (USA) کا سرمایہ دارانہ ماڈل (d) سوویت یونین (USSR) کا اشتراکی ماڈل

درج ذیل سوال (8 اور 9) میں، دو بیانات (A) دعویٰ (Assertion) اور (R) وجہ (Reason) دیے گئے ہیں۔ ان دونوں بیانات کو پڑھیے اور دیے گئے متبادل جوابوں میں سے صحیح جواب کا انتخاب کیجیے:

8. (A) دعویٰ (Assertion) : 1990 کی دہائی میں بادشاہت، دستوری بادشاہت کے دوران نیپال کی عوام اور سیاسی جماعتیں ایک زیادہ فراخ اور نمائندہ طرز حکومت چاہتی تھیں۔

(R) وجہ (Reason) : فوج کی حمایت اور پشت پناہی سے بادشاہ نے حکومت پر مکمل قابو رکھا اور نیپال میں جمہوریت

1 کی نمو پر روک لگادی۔

(a) دونوں (A) اور (R) صحیح ہیں اور (R) صحیح وضاحت ہے (A) کی۔

(b) دونوں (A) اور (R) صحیح ہیں لیکن (R) صحیح وضاحت نہیں ہے (A) کی۔

(c) (A) صحیح ہے، لیکن (R) غلط ہے۔

(d) (A) غلط ہے، لیکن (R) صحیح ہے۔



9. (A) دعویٰ (Assertion) : اقوام متحدہ سے توقع کی جاتی ہے کہ وہ یونی پولر دنیا میں بہتر کام کر پائے گا۔

(R) وجہ (Reason) : سوویت یونین (USSR) کے انتشار (ٹوٹنے) کے بعد کئی نئے ممالک اقوام متحدہ میں

1 شامل ہوئے۔

(a) دونوں (A) اور (R) صحیح ہیں اور (R) صحیح وضاحت ہے (A) کی۔

(b) دونوں (A) اور (R) صحیح ہیں لیکن (R) صحیح وضاحت نہیں ہے (A) کی۔

(c) (A) صحیح ہے، لیکن (R) غلط ہے۔

(d) (A) غلط ہے، لیکن (R) صحیح ہے۔

10. درج ذیل میں سے کون سی دہائی ہندوستان میں تیسری جمہوری لہر کی دہائی تھی؟

(a) 1970 کی دہائی

(b) 1980 کی دہائی

(c) 1990 کی دہائی

(d) 2000 کی دہائی

11. درج ذیل میں سے کون سا لیڈر کا ایک لیڈر تھا؟

(a) لال ڈیگا

(b) انگامی راپونزو

(c) قاضی دورجی

(d) ای۔وی۔راماسوامی

12. درج ذیل میں سے کون سا ایک، نیٹی آئیوگ (NITI Aayog) کا مقصد نہیں ہے؟

(a) ہندوستان کی ترقی کے لیے حکمت عملی بہم پہنچانا۔

(b) یونین گورنمنٹ کے لیے تھک ٹینک (Think Tank) کی شکل میں کام کرنا۔

(c) ترقی کے پروگراموں کے لیے فنڈ اکٹھا کرنا۔

(d) پالیسیوں کو عمل میں لانے میں دھیمے پن کو ختم کرنا۔



حصہ - B

13. مرکزی حکومت کے ذریعے پلاننگ کمیشن کی جگہ پر نیتی آئیگ (NITI Aayog) کو قائم کرنے کے کوئی دو اسباب بیان کیجیے۔
 $2 \times 1 = 2$
14. ہندوستان اور پاکستان کے درمیان رشتوں کو بہتر بنانے کے لیے کسی دو طریقوں کا مشورہ دیجیے۔
 $2 \times 1 = 2$
15. ہندوستان اور ازرائیل کے درمیان باہمی تعاون کے کسی دو علاقوں کا تجزیہ کیجیے۔
 $2 \times 1 = 2$
16. ہندوستان نے نیوکلائی معاہدوں جیسے سی۔ٹی۔بی۔ٹی۔ (CTBT) (تجربات پر مکمل پابندی کے معاہدے) اور این۔پی۔ٹی۔ (NPT) (غیر توسیعی معاہدہ) پر دستخط کیوں نہیں کیے؟ کوئی دو اسباب بیان کیجیے۔
 $2 \times 1 = 2$
17. بین الاقوامی مزدور تنظیم (ILO) (International Labour Organisation) کے کوئی دو کام بیان کیجیے۔
 $2 \times 1 = 2$
18. جنوبی ایشیا کے جمہوریت کے تجربوں سے جمہوریت کے عالمی تصور کا دائرہ بڑھ گیا۔ اس قول کو ثابت کیجیے۔
2

حصہ - C

19. ”عرب اسپرنگ“ (Arab Spring) ناانصافی کے خلاف عوام کا انقلاب تھا۔ اس قول کی تائید میں کوئی دو مثالیں دیجیے۔
 $2 \times 2 = 4$
20. ہندوستان میں پہلے تین عام انتخابات میں کانگریس کی بالادستی (غلبہ) کے کوئی چار اسباب بیان کیجیے۔
 $4 \times 1 = 4$
21. ہندوستان کے ساتھ راجاؤں کی ریاستوں کے ادغام میں سردار پٹیل نے جو کردار ادا کیا اس کی جانچ کیجیے۔
4



$4 \times 1 = 4$

22. ہندوستان اور پاکستان کے درمیان کشمیر تنازعہ کے کوئی چار اسباب اجاگر کیجیے۔

23. بہت بڑے باندھوں (Mega dams) کو بنانے کے کسی دو ناموافق اثرات (Adverse effects) کا تجزیہ


$2 \times 2 = 4$

کیجیے۔

حصہ - D

$4 \times 1 = 4$

24. نیچے دیے گئے کارٹون کا مطالعہ کیجیے اور اس کے نیچے دیے گئے سوالوں کے جواب لکھیے :




(i) کارٹون میں دکھائے گئے فوجی کا تعلق درج ذیل میں سے کس ملک سے ہے؟

(a) یو۔ ایس۔ ایس۔ آر۔ (b) یو۔ ایس۔ اے۔

(c) عراق (d) ایران

252/5/3



Page 7 of 12

P.T.O.



- (ii) کس سال عراق پر آپریشن آزادی عراق (Operation Iraq Freedom) کے خفیہ نام سے حملہ کیا گیا تھا؟
- (a) 1993 (b) 2000
(c) 2003 (d) 2008
- (iii) کارٹون میں دکھائے گئے ملکوں میں سے کون سا ایک ملک خلیجی ملک (Gulf Country) ہے؟
- (a) ایران (b) قزاقستان
(c) پاکستان (d) اومان
- (iv) پہلی خلیجی جنگ (Gulf War) کو درج ذیل میں سے کس دوسرے نام سے بھی جانا جاتا ہے؟
- (a) اسمارٹ جنگ (Smart war)
(b) آپریشن لبریشن (Operation liberation)
(c) کمپیوٹر کی جنگ (Computer war)
(d) پائڈر آزادی کی مہم (Operation enduring freedom)

4 × 1 = 4

نوٹ: درج ذیل سوالات صرف ناپید امیدواروں کے لیے سوال نمبر 24 کے بدلے:

- (24.1) درج ذیل میں سے کون سی گل ف کنٹری (خلیجی ملک) ہے؟
- (a) ایران (b) پاکستان
(c) اومان (d) قزاقستان
- (24.2) کس سال عراق پر آپریشن آزادی عراق کے خفیہ نام سے حملہ کیا گیا تھا؟
- (a) 1995 (b) 1999
(c) 2003 (d) 2007
- (24.3) WMD کی فل فارم کیا ہے؟
- (a) ویپنس آف مینیم ڈسٹرکشن (Weapons of minimum destruction)
(b) ویپنس آف ماس ڈسٹرکشن (Weapons of mass destruction)
(c) ویپنس آف میکسیم ڈسٹرکشن (Weapons of maximum destruction)
(d) ویپنس آف موسٹ ڈسٹرکشن (Weapons of most destruction)
- (24.4) پہلی خلیجی جنگ _____ کے نام سے بھی جانی جاتی ہے۔
- (a) اسمارٹ جنگ (b) آپریشن لبریشن
(c) کمپیوٹر کی جنگ (d) پائڈر اور آزادی کی مہم



4 × 1 = 4

25. درج ذیل اقتباس کو غور سے پڑھیے اور اس سے متعلق دیے گئے سوالوں کے جواب لکھیے:

ایک نظریہ یا تصور کے اعتبار سے عالم گیریت کا تعلق دھاراؤں (Flows) سے ہے۔ یہ دھاراؤں کئی قسم کی ہو سکتی ہیں مثال کے طور پر دنیا میں ایک جگہ سے دوسری جگہ پر نظریات و خیالات کا آنا جانا، سرمایے کی ایک جگہ سے دوسری جگہوں پر منتقلی، سامان تجارت کا سرحدوں سے ادھر ادھر جانے اور بہتر روزگار کے لیے لوگوں کا دنیا کے دوسرے علاقوں میں جانا وغیرہ وغیرہ۔ عالم گیریت کا اصل عنصر یا جز عالمی سطح پر ایک دوسرے سے مستقل میل جول اور اس میل جول کی ان دھاراؤں کی برقراری ہے۔

(i) عالمی سطح پر باہمی رشتوں کو _____ بھی کہا جاتا ہے۔

- (a) عالم گیریت
(b) لبرلائزیشن
(c) سوشلزم
(d) نجی کاری

(ii) عالم گیریت کثیر جہتی ہے _____

- (a) سیاسی، سماجی اور روحانی
(b) سیاسی، معاشی اور جغرافیائی
(c) سیاسی، معاشی اور ماحولیاتی
(d) سیاسی، سماجی اور معاشی

(iii) درج ذیل میں سے کون معاشی سرگرمیوں میں اضافہ کرتا ہے؟

- (a) روزگاروں کا کم ہونا
(b) غریبی کے اشاریہ میں اضافہ
(c) مضبوط عالم گیری معاشی ترقی
(d) تجارت میں تیزی سے گراؤٹ

(iv) درج ذیل میں سے کون عالم گیریت کا ایک اثر ہے؟

- (a) ریاستوں کی طاقت میں اضافہ ہوا ہے۔
(b) نئی نئی تجارتی پابندیاں لاگو کی گئی ہیں۔
(c) صارف کے انتخاب کے اختیار میں اضافہ ہوا ہے۔
(d) مقامی صنعتوں کو بڑھاوا ملا ہے۔

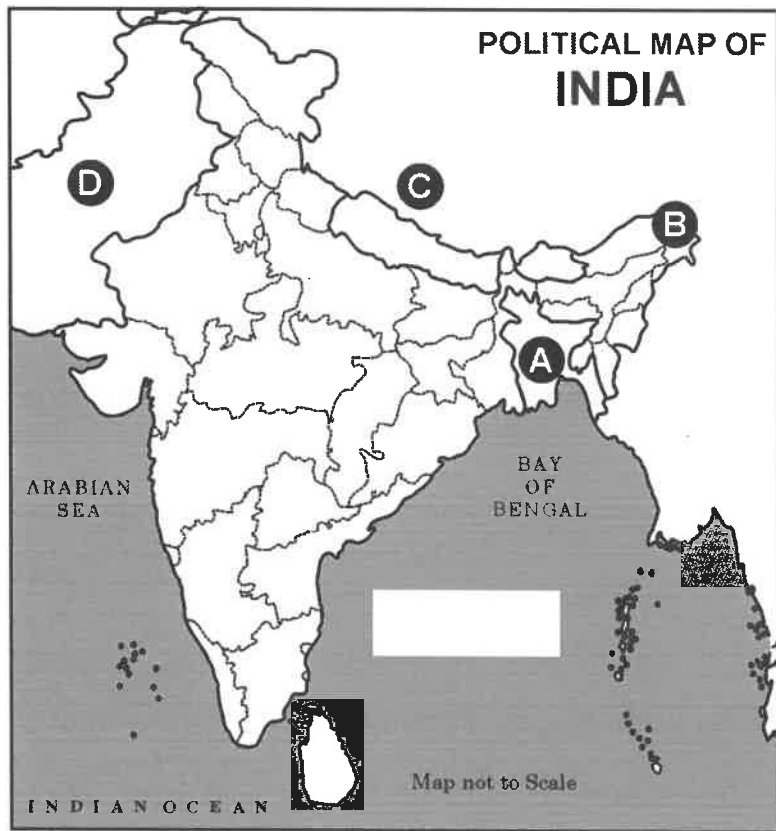


26. دیے گئے ہندوستان کے نقشے کے سیاسی خاکے میں چار ملکوں / ریاستوں کو A، B، C اور D سے دکھایا گیا ہے۔ درج ذیل معلومات کی مدد سے ان کی پہچان کیجیے۔ اور ان کے صحیح نام، استعمال کی گئی معلومات کے سیریل نمبر اور ان سے متعلق حروف کو نیچے دیے گئے فارمیٹ کی شکل میں اپنی جوابی کاپی میں لکھیے :

$$4 \times 1 = 4$$

- (i) وہ ملک جس کے ساتھ ہندوستان کی 1962 میں جنگ ہوئی۔
- (ii) وہ ملک جس کے ساتھ ہندوستان کا کشمیر کے مدعے پر تنازعہ تھا۔
- (iii) وہ ملک جو 1971 کی جنگ کے بعد ظہور میں آیا۔
- (iv) ہندوستان کی وہ ریاست جو چین کے ساتھ سرحد میں حصہ دار ہے۔

ملک / ریاست کا نام	نقشے میں متعلق حروف	استعمال کی گئی معلومات کا سیریل نمبر
		(i)
		(ii)
		(iii)
		(iv)





$4 \times 1 = 4$

نوٹ: درج ذیل سوالات صرف نابینا امیدواروں کے لیے سوال نمبر 26 کے بدلے :

(26.1) اس ملک کا نام لکھیے جس کے ساتھ ہندوستان نے 1962 میں جنگ لڑی تھی۔

(26.2) آزادی کے بعد سے ہی کس ملک کے ساتھ ہندوستان کا کشمیر مدعے پر تنازعہ رہا ہے؟

(26.3) شیخ مجیب الرحمن سے متعلق ملک کا نام لکھیے۔

(26.4) کون سی ہندوستان کی ریاست شمال مشرقی اپنی سرحد میں چین کے ساتھ حصہ دار ہے؟

حصہ - E

27. (a) ہندوستان میں امن اور تعاون کو فروغ دینے میں سارک (SAARC) کے رول کا تجزیہ کیجیے۔ 6

یا

(b) ”اکیسویں صدی کا جاپان ایک نئی طاقت کے مرکز (new center of power) کی شکل میں ابھر رہا ہے۔“

$3 \times 2 = 6$

اس قول کی تائید میں کوئی تین دلیلیں دیجیے۔

28. (a) 1975 میں ایمر جنسی کا اعلان ہندوستانی سیاست کا سب سے زیادہ متنازعہ واقعہ کیوں مانا جاتا ہے؟ کوئی تین اسباب

$3 \times 2 = 6$

اجاگر کیجیے۔

یا

(b) 1977 کے چناؤ میں کانگریس پارٹی کے زوال کے ذمہ دار کوئی تین عوامل اجاگر کیجیے۔ 6

$3 \times 2 = 6$

29. (a) منڈل کمیشن کی تین سفارشات کس طرح دیگر پس ماندہ طبقوں کے مسائل کو حل کرنے کی ایک کوشش ہے؟ تجزیہ

$3 \times 2 = 6$

کیجیے۔

یا

(b) ہندوستان کی سیاست میں ’دیگر پسماندہ طبقہ‘ کے سیاسی عروج کے لیے ذمہ دار کسی تین عوامل کا تجزیہ کیجیے۔ 6

$3 \times 2 = 6$

30. (a) سلامتی کے لیے ایک نئے خطرے کی شکل میں دہشت گردی کی وضاحت کسی دو مثالوں کی مدد سے کیجیے۔ 6

$2 \times 3 = 6$

یا

(b) اقوام متحدہ کی سلامتی کونسل کے نئے مستقل یا غیر مستقل ممبروں کے لیے تجویز کیے گئے کسی چار معیاروں (اصول و

$4 \times 1\frac{1}{2} = 6$

ضوابط) کو بیان کیجیے۔

